

نمونه سوال مالیه عمومی

۱- علم تجزیه و تحلیل و بررسی مسائل مربوط به درآمدها و مخارج دولت و نتایج حاصل از هر یک از آنها چه نام دارد؟

الف) بودجه (ب) حسابداری دولتی (ج) مالیه عمومی (د) اقتصاد

۲- کدامیک از مکاتب اقتصادی زیر معتقد به عدم دخالت کامل دولت در اقتصاد بود؟

الف) مرکانتیلیسم (ب) سوسیالیسم (ج) فیزیوکرات (د) کلاسیک

۳- این عبارت که "دولت کارفرمای خوبی نیست" مربوط به کدام مکتب اقتصادی است؟

الف) مرکانتیلیسم (ب) سوسیالیسم (ج) فیزیوکرات (د) کلاسیک

۴- دولت با کدامیک از روشهای زیر می تواند در حفظ ثبات اقتصادی نقش داشته باشد؟

الف) افزایش درآمدها و سرانه جامعه (ب) رفع بحرانهای اقتصادی مثل بیکاری و تورم

ج) جلوگیری از سرقت و کالاهای قاچاق (د) افزایش کالاهای عمومی

۵- ایجاد تعدیل در وضع درآمدها و ثروتها جهت نیل به توزیع عادلانه درآمد و ثروت، کدام نقش دولت را نشان می دهد؟

الف) نقش تخصیصی (ب) نقش توزیعی (ج) نقش تثبیتی و قانونی (د) الف و ج

۶- این هزینه ها باعث جابجایی منابع جامعه به بخش عمومی می شود؟

الف) هزینه های انتقالی (ب) هزینه های تمام شدنی (ج) هزینه های بازنشستگی (د) هر ۳ مورد

۷- اصل تعادل کلاسیکها در مالیه عمومی کدام گزینه است؟

الف) سایر منابع + درآمد = هزینه (ب) درآمد = هزینه

ج) سایر منابع + هزینه = درآمد (د) هزینه - درآمد = منافع

۸- بر اساس معیار سنجش نقش دولت، اگر هزینه های دولتی کشور A دو برابر هزینه های دولتی کشور B باشد

ولی جمعیت کشور B دو برابر جمعیت کشور A باشد آنگاه میتوان نتیجه گرفت؟

الف) دخالت و نقش دولت کشور A از دولت کشور B کمتر است

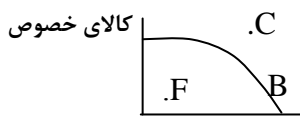
ب) دخالت و نقش دولت کشور B از دولت کشور A بیشتر است

ج) دخالت و نقش دولت کشور B از دولت کشور A کمتر است

د) هزینه های دولتی کشور B از هزینه های دولتی کشور A بیشتر است

۹- نقطه F در منحنی امکانات تولید زیر به چه معنی است؟

الف) غیر کارآمد بودن اقتصاد (ب) کارآمد بودن اقتصاد
 ج) کارایی و استفاده بهینه از منابع (د) میزان کالاهای عمومی



- ۱۰- کدام عبارت درباره نقطه B در منحنی امکانات تولید سوال قبل صحیح است؟
- الف) این نقطه در آینده قابل دسترسی خواهد بود (ب) کارایی و استفاده بهینه از منابع
 ج) این نقطه یعنی غیر کارآمد بودن اقتصاد (د) با افزایش کالاهای خصوصی قابل دسترس است
- ۱۱- اگر رشد اقتصادی روی دهد، منحنی امکانات تولید؟
- الف) به سمت داخل انتقال می یابد (ب) به سمت بیرون انتقال می یابد
 ج) سهم محور عمودی کمتر میشود (د) تغییری نمی کند
- ۱۲- اگر در منحنی امکانات تولید، برای تولید کالای مصرفی ۵۰ درصد منابع و برای تولید کالای سرمایه ای ۴۰ درصد منابع بکار گرفته شده باشد، می توان گفت؟
- الف) کارایی اقتصادی وجود دارد (ب) ترکیب کالاها بصورت بهینه استفاده گردیده است
 ج) بخشی از منابع بلااستفاده مانده است (د) بخشی از منابع غیر قابل دسترسی است
- ۱۳- مطابق با اصل فایده/هزینه در مالیه عمومی؟
- الف) اگر دولت هزینه نکند نمی تواند فایده بدست آورد
 ب) درآمد و هزینه دولت همیشه باید در تعادل باشد
 ج) هر یک ریال هزینه کرد دولت از منابع ملت چه اندازه برای دولت فایده به همراه دارد
 د) فایده حاصل از آخرین ریال خرج شده توسط دولت بیشتر یا برابر پول خرج شده اش باشد
- ۱۴- در مدل رشد هزینه های دولت از دیدگاه روستو و ماسگریو، در مرحله چهارم توسعه؟
- الف) هزینه های زیربنایی افزایش می یابد (ب) افزایش هزینه های زیربنایی ادامه می یابد
 ج) هزینه های اجتماعی و رفاهی افزایش می یابد (د) هزینه های انتقالی افزایش می یابد
- ۱۵- فایده نهایی و هزینه نهایی اجرای پروژه الف جهت مقابله با بحران خشکسالی در کشور به ترتیب ۱ میلیون ریال و ۹۰۰ هزار ریال بوده و فایده نهایی و هزینه نهایی اجرای پروژه ب به ترتیب ۸۰۰ هزار ریال و ۵۰۰ هزار ریال و فایده نهایی و هزینه نهایی اجرای پروژه ج به ترتیب ۷۰۰ هزار ریال و ۶۵۰ هزار ریال می باشد. اگر اجرای پروژه الف موجب کاهش خسارت خشکسالی به اندازه یک میلیون و ششصد هزار ریال، اجرای پروژه ب موجب کاهش خسارت به مبلغ یک میلیون و هفتصد هزار ریال و اجرای پروژه ج موجب کاهش خسارت به مبلغ دو میلیون و پانصد هزار شود استفاده از کدام پروژه مطلوبتر است؟
- الف) پروژه الف (ب) پروژه ب (ج) پروژه ج (د) پروژه الف و ب
- ۱۶- " دولت تا آن حد هزینه ها و مالیات ها را افزایش میدهد که مورد پذیرش مردم باشد و فراتر از آن می تواند احتمالاً منجر به اعتراض مردم گردد " این جمله در چه حوزه ای از مالیه عمومی بحث می کند؟
- الف) تمایل مردم به خرج کردن (ب) افزایش هزینه های عمومی
 ج) مدل رشد هزینه های دولت (د) عدم توجه به خواسته های مردم
- ۱۷- کدامیک از هزینه های زیر جزء هزینه های انتقالی نیست؟
- الف) یارانه ها (ب) حقوق بازنشستگی (ج) ایجاد مدارس و بیمارستان (د) کمک به بیکاران

۱۸- در مورد کالاها و خدمات عمومی خالص کدام عبارت صحیح است؟

الف) ورود استفاده کننده جدید فایده دیگران را کاهش می دهد

ب) بدون توجه به تعداد استفاده کنندگان غیر قابل رقابت هستند

ج) منافع آن را می توان به فرد یا گروه خاصی تخصیص داد

د) امکان تفکیک و تخصیص منافع در مورد این نوع کالاها و خدمات صدق می کند

۱۹- کتابخانه عمومی شهر و استادیوم های ورزشی جزء کدام دسته از کالاها و خدمات محسوب می شوند؟

الف) کالاها و خدمات عمومی ناخالص ب) کالاها و خدمات عمومی خالص

ج) کالاها و خدمات خصوصی د) کالاها و خدمات نهایی

۲۰- اگر در تولید و مصرف یک نوع کالا یا خدمت علاوه بر وجود فایده و هزینه در بازار، فایده و هزینه ای هم

برای خارج از بازار وجود داشته باشد به آن می گویند؟

الف) مزیت خارجی ب) پیامد خارجی ج) پیامد بهینه اقتصادی د) فایده نهایی

۲۱- اگر بار مالیات برای خانوارها بصورت یک نسبت ثابت باشد به آن می گویند؟

الف) مالیات ثابت ب) مالیات نسبی ج) مالیات تصاعدی د) مالیات تنازلی

۲۲- مالیات نهایی که بر بازار یا بر مصرف وضع میشود است؟

الف) مالیات نسبی ب) مالیات تنازلی ج) مالیات تصاعدی د) مالیات مستقیم

۲۳- وجود نرخهای مالیاتی تصاعدی در بیشتر کشورها توجه به اصل می باشد؟

الف) سهولت ب) فایده ج) توانایی پرداخت د) صرفه جویی

۲۴- اگر دوفرد درآمد برابری داشته باشند و یکی از آنان مقدار قابل توجهی جواهرآلات در منزل داشته باشد

در این صورت مناسب ترین پایه مالیاتی کدام است؟

الف) مصرف ب) ثروت ج) درآمد شخصی د) سرمایه

۲۵- ضریب جینی کشور الف ۰/۴ و کشور ب ۰/۱۵ است. میتوان گفت؟

الف) نابرابری در توزیع درآمد کشور الف بیشتر از کشور ب است

ب) نابرابری در توزیع درآمد کشور ب بیشتر از کشور الف است

ج) نابرابری در توزیع درآمد کشور الف کمتر از کشور ب است

د) با اطلاعات فعلی مقایسه مقدور نیست

۲۶- کدام عبارت صحیح است؟

الف) هر قدر نسبت سهم آخرین دهک (ثروتمندترین) به سهم اولین دهک (فقیرترین) کمتر باشد نابرابری در توزیع درآمد بیشتر خواهد بود

ب) هر قدر نسبت سهم آخرین دهک (ثروتمندترین) به سهم اولین دهک (فقیرترین) بیشتر باشد نابرابری در توزیع درآمد بیشتر خواهد بود

ج) هر قدر نسبت سهم اولین دهک (ثروتمندترین) به سهم آخرین دهک (فقیرترین) کمتر باشد نابرابری در توزیع درآمد بیشتر خواهد بود

د) اگر میانگین درآمد آخرین دهک از میانگین درآمد اولین دهک بیشتر باشد نابرابری در توزیع درآمد بیشتر خواهد بود

۲۷- در چه صورت دریافت وام از منابع خارجی به صرفه خواهد بود؟

الف) اینگونه وامها صرف امور جاری گردد ب) اینگونه وامها صرف امور دفاعی و امنیتی گردد

ج) اینگونه وامها به اقشار کم درآمد انتقال یابد د) اینگونه وامها صرف امور زیربنایی و عمرانی گردد

۲۸- عدم صلاحیت کارکنان اداری و سوء مدیریت، کدام نوع کسری بودجه را موجب می گردد؟

الف) کسری بودجه مربوط به ساختار اقتصادی ب) کسری بودجه ناشی از اوضاع اقتصادی

ج) کسری بودجه ناشی از عدم وجود اعتبارات کافی د) کسری بودجه اداری

۲۹- باتوجه به موضوع توزیع عادلانه درآمد به نظر مطلوبیون،؟

الف) مطلوبیت نهایی فرد ثروتمند بیشتر از فرد فقیر است

ب) ثروتمندان واحد درآمد اضافی را صرف کالاهای اساسی و ضروری می نمایند

ج) یک واحد درآمد اضافی برای یک ثروتمند، ارزشی بیشتر از یک واحد درآمد اضافی برای یک فقیر دارد

د) انتقال درآمد از ثروتمندان به فقرا موجب افزایش مطلوبیت کل جامعه می شود

۳۰- اگر خانوار A درآمد ماهیانه ۵۰۰ هزار تومان و خانوار B درآمد ماهیانه ۲۰۰ هزار تومان داشته باشند و اگر

هر کدام ماهیانه ۲۰ هزار تومان نوشیدنی خریداری و مصرف نمایند و به ازای نوشیدنی ۲ هزار تومان مالیات

پردازند، مشاهده می شود که خانوار B $1/500$ درآمد خود را و خانوار A $1/200$ درآمد خویش را مالیات

می دهند. این بدان معنی است که.....؟

الف) نرخ مالیات خانوار A کمتر از خانوار B است

ب) نرخ مالیات هر دو خانوار برابر ۱۰ درصد است

ج) این نوع مالیات را تناسبی می نامند

د) مقدار مالیات پرداختی خانوار A بیشتر از خانوار B است

۳۱- اعطای سوبسید جنسی (کالایی) چه زمانی مناسب تر است؟

الف) در مواقعی که تورم شدیدی در سیستم اقتصادی وجود دارد

ب) در شرایطی که کالا یا خدمت مورد نظر دولت دارای اثرات خارجی منفی باشد

ج) در شرایطی که کالاهای مورد نظر کالاهای معمولی باشند

د) در شرایطی که کالا یا خدمت خاصی مورد نظر دولت نباشد

۳۲- کدام گزینه درباره کالاهای عمومی خالص، صحیح است؟

الف) اضافه شدن یک استفاده کننده دیگر، هزینه جدیدی ایجاد نخواهد کرد

ب) منع استفاده از آن برای عده ای، غیر اقتصادی خواهد بود

ج) هزینه نهایی استفاده از کالاهای عمومی خالص، صفر است

د) همه موارد

۳۳- در صورت نبودن پیامد خارجی، یک بنگاه اقتصادی تاجایی به تولید ادامه می دهد که.....؟

الف) $P = MC$ ب) $P = SMC$ ج) $MB = MC$ د) هیچکدام

۳۴- اگر دولت در مورد خرید یک کالای عمومی برای همه یاران در نظر بگیرد، گزینه مناسب تر کدام است؟

الف) منفعت بیشتری جهت استفاده از آن کالا به فقرا می رسد

ب) منفعت بیشتری جهت استفاده از آن کالا به ثروتمندان می رسد

ج) هم ثروتمندان و هم فقرا به یک میزان از آن کالا منتفع می گردند

د) در مورد کالاهای عمومی، اعطای یارانه مناسب نیست

۳۵- خدمات نیروی انتظامی چه نوع خدماتی محسوب می گردد؟

الف) عمومی خالص ب) رقابت پذیر ج) تخصیص پذیر د) عمومی ناخالص

۳۶- کدام ویژگی مربوط به کالای عمومی خالص است؟

الف) رقابت پذیری و تخصیص پذیری ب) رقابت ناپذیری و تخصیص ناپذیری

ج) فایده عمومی د) مصرف عمومی

۳۷- با توجه به نامعادله (فایده نهایی خارجی + فایده نهایی داخلی < هزینه نهایی) درباره وجود پیامد خارجی

مثبت، مناسب ترین گزینه کدام خواهد بود؟

الف) تولید کننده حاضر به افزایش تولید خواهد بود و به اینصورت منفعت عمومی ایجاد خواهد شد

ب) دولت باید به تولید کننده مالیات بیشتری ببندد تا او به تولید خود ادامه دهد و فایده خارجی تداوم یابد

ج) دولت باید به تولید کننده سوبسید پردازد تا او به تولید خود ادامه دهد و فایده خارجی تداوم یابد

د) تولید کننده فقط به اندازه فایده نهایی داخلی حاضر به تولید است پس دولت باید او را مجبور به تولید بیشتر نماید

۳۸- به نظر کینز " هر قدر سهم درآمد مالیاتی نسبت به درآمد ملی باشد، تاثیر گذاری سیاست بیشتر

خواهد بود " ؟

الف) کمتر - مالیاتی ب) کمتر - درآمدی ج) بیشتر - مالیاتی د) بیشتر - ملی

۳۹- از نظر هنری سیمون مناسب ترین معیار برای اندازه گیری توانایی پرداخت افراد کدام است؟

الف) مصرف (ب) ثروت (ج) درآمد شخصی (د) سرمایه

۴۰- دریافت عوارض از دارندگان اتومبیل برای احداث یا توسعه خیابان با کدام اصل سازگار است؟

الف) اصل عدالت عمودی (ب) اصل فایده (ج) اصل عدالت افقی (د) اصل توانایی پرداخت

۴۱- کدامیک از سیاستهای زیر سیاست مالی انقباضی است؟

الف) کاهش مخارج دولت (ب) افزایش عرضه پول (ج) کاهش مالیاتها (د) کاهش نرخ بهره

۴۲- کدام نوع تامین کسری بودجه دولت آثار تورمی ندارد؟

الف) تامین منابع از طریق انتشار اوراق قرضه و وامشارکت (ب) وام از دولتهای خارجی

ج) وام از بانک مرکزی (د) برداشت از ذخیره ارزی

۴۳- منحنی تقاضای کالای عمومی عبارت است از؟


الف) جمع مبالغی که مصرف کنندگان در هر سطحی از مقدار استفاده از کالای عمومی حاضر به پرداخت هستند

ب) جمع افقی منحنی تقاضای تک تک افراد

ج) جمع مقادیری است که مصرف کنندگان در هر سطحی از قیمت کالای عمومی حاضر به پرداخت هستند

د) جمع مقادیر منحنی تقاضای تک تک افراد

۴۴- با توجه به منحنی زیر (منحنی لورنز) می توان نتیجه گرفت : ؟



الف) حدود ۳۲ درصد خانوارها ۶۰ درصد درآمد را دارا هستند

ب) حدود ۴/۵ درصد خانوارها ۲۰ درصد درآمد را دارا هستند

ج) ۶۰ درصد خانوارها حدود ۳۲ درصد درآمد را دارا هستند

د) حدود ۴/۵ درصد درآمدها در دست ۳۲ درصد افراد است

۴۵- ضریب جینی کشور الف ۰/۳ و کشور ب ۰/۱ است . میتوان گفت؟

الف) نابرابری در توزیع درآمد کشور الف بیشتر از کشور ب است

ب) نابرابری در توزیع درآمد کشور ب بیشتر از کشور الف است

ج) نابرابری در توزیع درآمد کشور الف کمتر از کشور ب است

د) با اطلاعات فعلی مقایسه مقدور نیست

۴۶- اگر در کشور الف کل جامعه درآمدی به ۱۰ گروه درآمدی تقسیم شده باشد و سهم ۱۰ درصدی ثروتمندترین خانوارها ۴۸ درصد و سهم ۱۰ درصدی فقیرترین خانوارها ۲ درصد باشد درحالیکه ضریب دهک درآمدی برای کشور ب معادل ۲۰ باشد در این صورت می توان گفت.....؟
الف) نسبت سهم آخرین دهک (ثروتمندترین) به سهم اولین دهک (فقیرترین) کشور الف کمتر از کشور ب می باشد

ب) تعداد ثروتمندان کشور الف بیشتر از کشور ب می باشد
ج) ضریب دهک درآمدی کشور الف بیشتر از کشور ب می باشد و درآمد این کشور دارای توزیع نابرابری بیشتری است

د) درصد ثروتمندان کشور ب کمتر از کشور الف می باشد

۴۷- کدامیک از گزینه های زیر از وظایف مالیه عمومی نیست؟

الف) توزیع عادلانه درآمد و ثروت ب) فراهم ساختن زمینه های مصرف

ج) ثبات وضع اقتصادی د) تخصیص موثر منابع

۴۸- هدف اصلی مالیه عمومی کدام است؟

الف) سودآوری ب) ایجاد درآمد برای دولت ج) فایده اجتماعی د) کاهش هزینه های دولت

۴۹- در کدامیک از کشورهای زیر دولت کمترین اندازه را دارد؟

الف) کشورهای سوسیالیستی ب) کشورهای جهان سوم

ج) کشورهای اروپای شمالی د) کشورهای صنعتی

۵۰- کدامیک از مکاتب اقتصادی زیر معتقد بودند دولت به نمایندگی از اجتماع، باید اداره فعالیتهای مختلف را برعهده گیرد؟

الف) مرکانتیلیسم ب) سوسیالیسم ج) فیزیوکرات د) کلاسیک

۵۱- از دیدگاه آدام اسمیت کدام یک از وظایف زیر، از جمله وظایف اصلی دولت نیست؟

الف) ایجاد امنیت اجتماعی ب) ایجاد نظم و قانون

ج) برقراری حداکثر مالیات د) تولید کالاها و خدمات عمومی

۵۲- از جمله نقشهای مهم دولتها، امروزه در اقتصاد کدام است؟

الف) نقش تخصیصی ب) نقش توزیعی ج) نقش تثبیتی و قانونی د) همه موارد

۵۳- با توجه به وظایف مالیه عمومی، کدامیک از گزینه های زیر از جمله مشکلات اقتصادی کشورهای در حال توسعه و جهان سوم است؟

الف) عدم وجود نظارت کافی ب) وجود زمینه های فراوان مصرف

ج) عدم وجود ثبات وضع اقتصادی د) عدم وجود خدمات رفاهی و اجتماعی

۵۴- کدامیک از هزینه های زیر جزء هزینه های انتقالی است؟

الف) یارانه ها ب) حقوق بازنشستگی ج) کمک به بیکاران د) همه موارد

۵۵- بر اساس معیارسنجش نقش دولت، اگر نسبت هزینه دولت به جمعیت در کشور A بیشتر از کشور B باشد، آنگاه میتوان نتیجه گرفت؟

(الف) دخالت و نقش دولت کشور A از دولت کشور B کمتر است

(ب) دخالت و نقش دولت کشور B از دولت کشور A کمتر است

(ج) دخالت و نقش دولت کشور B از دولت کشور A بیشتر است

(د) هزینه های دولتی کشور B از هزینه های دولتی کشور A کمتر است

۵۶- کدامیک از معیارهای سنجش هزینه های دولت به بررسی حجم هزینه های دولت و مقایسه آن با سایر کشورها می پردازد؟

(الف) معیار حجم هزینه های دولت (ب) نسبت هزینه های دولت به درآمد ملی

(ج) نسبت هزینه های دولت به جمعیت (د) نسبت هزینه سرانه دولت

۵۷- اصل تعادل نیوکلاسیکها (کلاسیکهای جدید) در مالیه عمومی کدام گزینه است؟

(الف) سایر منابع + درآمد = هزینه (ب) درآمد = هزینه

(ج) سایر منابع + هزینه = درآمد (د) هزینه - درآمد = منافع

۵۸- دولت با کدامیک از روشهای زیر می تواند توزیع عادلانه درآمد را انجام دهد؟

(الف) اخذ مالیات و اعطای یارانه (ب) افزایش درآمد سرانه جامعه

(ج) جلوگیری از سرقت و کالاهای قاچاق (د) افزایش کالاهای عمومی

۵۹- کدام وظیفه مالیه عمومی عبارت است از : اتخاذ تدابیر شایسته بمنظور رفع بحرانها و عدم ثباتهایی مانند بیکاری و تورم؟

(الف) توزیع عادلانه درآمد و ثروت (ب) فراهم ساختن زمینه های تولید و اشتغال

(ج) حفظ ثبات وضع اقتصادی (د) تخصیص موثر منابع

۶۰- در مدل رشد هزینه های دولت از دیدگاه روستو و ماسگریو، در مرحله سوم توسعه؟

(الف) هزینه های زیربنایی افزایش می یابد (ب) افزایش هزینه های زیربنایی ادامه می یابد

(ج) هزینه های اجتماعی و رفاهی افزایش می یابد (د) هزینه های انتقالی افزایش می یابد

۶۱- در مدل رشد هزینه های دولت از نظر واگنر، چه عاملی موجب افزایش اندازه بخش عمومی می گردد؟

(الف) افزایش هزینه خانوارها (ب) افزایش تقاضای کالاها و خدمات

(ج) شهرنشینی و توسعه شهرها (د) افزایش درآمد سرانه جامعه یا افراد

۶۲- "حکومت ها با توجه به تمایل مردم آماده خرج کردن بیشتر هستند، حال آنکه مردم دوست ندارند مالیات

های بیشتری بپردازند" این جمله در چه حوزه ای از مالیه عمومی بحث می کند؟

(الف) مدل رشد هزینه های دولت (ب) وصول درآمدهای مالیاتی

(ج) تمایل مردم به خرج کردن (د) عدم توجه به خواسته های مردم

۶۳- کدام گزینه درباره کالاهای عمومی خالص، صحیح است؟

الف) اضافه شدن یک استفاده کننده دیگر، هزینه جدیدی ایجاد نخواهد کرد

ب) منع استفاده از آن برای عده ای، غیر اقتصادی خواهد بود

ج) هزینه نهایی استفاده از کالاهای عمومی خالص، صفر است

د) همه موارد

۶۴- کدامیک از کالاها یا خدمات زیر، عمومی ناخالص می باشد؟

الف) تلویزیون ب) خدمات پلیس ج) استادیوم ورزشی د) آموزش و پرورش

۶۵- کدام گزینه کالای خصوصی است؟

الف) تلویزیون ب) پارک ج) کتابخانه عمومی د) استخر منزل شخصی

۶۶- کدام مورد از ویژگیهای کالاهای عمومی ناخالص است؟

الف) رقابت ناپذیری ب) تخصیص پذیری ج) رقابت پذیری د) ب و الف

۶۷- کدام معادله زیر درست نیست؟

الف) $C = a + bY$ ب) $Y = C + I + S$

ج) $1 - MPC = MPS$ د) $Y = C + I + G$

۶۸- باتوجه به معادله $C = 50 + .6YD$ ، اگر مخارج دولت ۱۰۰ میلیارد ریال افزایش یابد، درآمد ملی؟

الف) ۲۵ میلیارد ریال کاهش می یابد ب) ۲۵۰ میلیارد ریال افزایش می یابد

ج) حدود ۱۷۰ میلیارد افزایش می یابد د) تغییری نمی کند


۶۹- باتوجه به اطلاعات فوق، با فرض ثابت بودن مالیات، اگر مالیات ۲۰۰ میلیارد ریال افزایش یابد، درآمد ملی

.....؟

الف) ۳۰۰ میلیارد ریال کاهش می یابد ب) ۳۰ میلیارد ریال افزایش می یابد

ج) ۲۵۰ میلیارد ریال افزایش می یابد د) حدود ۱۵۰ میلیارد افزایش می یابد

۷۰- باتوجه به منحنی لورنز کدام گزینه درست است؟



الف) توزیع درآمد سال ۶۸ نا عادلانه تر است ب) توزیع درآمد سال ۵۶ عادلانه تر است

ج) توزیع درآمد سال ۶۸ عادلانه تر است د) نمی توان قضاوت نمود

۷۱- اگر دهکهای درآمدی جامعه به ۱۰ گروه تقسیم شده باشد و سهم ۱۰ درصدی ثروتمندترین خانوارها ۵۴

درصد و سهم ۱۰ درصدی فقیرترین خانوارها ۴ درصد باشد ضریب دهک درآمدی برابر است با؟

الف) ۱۴ ب) ۵۰ ج) ۵۸ د) همه موارد

۷۲- با توجه به سوال قبل می توان گفت؟

الف) ثروتمندترین افراد ۵۴ برابر فقیرترین افراد درآمد دارند

ب) فقیرترین افراد ۴ برابر ثروتمندترین افراد درآمد دارند

ج) ثروتمندترین افراد ۱۴ برابر فقیرترین افراد درآمد دارند

د) ثروتمندترین افراد سرجمع ۵۴ میلیون تومن درآمد دارند